

## Základní škola Dobřív, okres Rokycany

Číslo projektu	CZ.1.07/1.4.00/21.1009
Název projektu	„Málotřídni škola“



Anotace:	Žák si procvičí a upevní získané znalosti a dovednosti
Autor:	Mgr. Lenka Hanzlíková
Jazyk:	Čeština
Očekávaný výstup:	<ul style="list-style-type: none"> <li>• provádí z paměti jednoduché početní operace s přirozenými čísly</li> <li>• používá přirozená čísla k modelování reálných situací, počítá předměty v daném souboru, vytváří soubory s daným počtem prvků</li> </ul>
Speciální vzdělávací potřeby:	- žádné -
Klíčová slova:	Násobení a dělení šesti
Druh učebního materiálu:	Pracovní list
Druh interaktivity:	Aktivita
Cílová skupina:	žák
Stupeň a typ vzdělávání:	Základní vzdělávání – první stupeň – druhé období
Typická věková skupina:	7 - 8 let


Poznámky, metodika:

Datum ověření: 15. 5. 2012


# Násobení a dělení šesti

## Vyznač příklady ve čtvercové síti


$7.6=$




$10.6=$



$9.6=$



$8.6=$



## Vypočítej

$2.6=$

$8.6=$

$7.6=$

$3.6=$

$5.6=$

$10.6=$

$1.6=$

$4.6=$

$9.6=$

$0.6=$

$6.6=$

$7.6=$

## Barevně vyznač násobky čísla šest

0	1	2	3	4	5
	6	7	8	9	10
	11	12	13	14	15
	16	17	18	19	20
	21	22	23	24	25
	26	27	28	29	30
	31	32	33	34	35
	36	37	38	39	40
	41	42	43	44	45
	46	47	48	49	50
	51	52	53	54	55
	56	57	58	59	60



## Vypočítej

\_\_\_ :6=8

\_\_\_ :6=4

\_\_\_ :6=2

\_\_\_ :6=9

\_\_\_ :6=5

\_\_\_ :6=1

\_\_\_ :6=6

\_\_\_ :6=10

\_\_\_ :6=7

\_\_\_ :6=3

## Vypočítej slovní úlohu

V zahradě rozkvetlo 18 červených růží a 6 krát méně žlutých růží než červených.

Kolik v zahradě kvetlo **dohromady růží**?

\_\_\_ červených růží

\_\_\_\_\_ žlutých růží

Výpočet \_\_\_\_\_

\_\_\_ červených růží

\_\_\_ žlutých růží

Výpočet \_\_\_\_\_

Odpověď \_\_\_\_\_